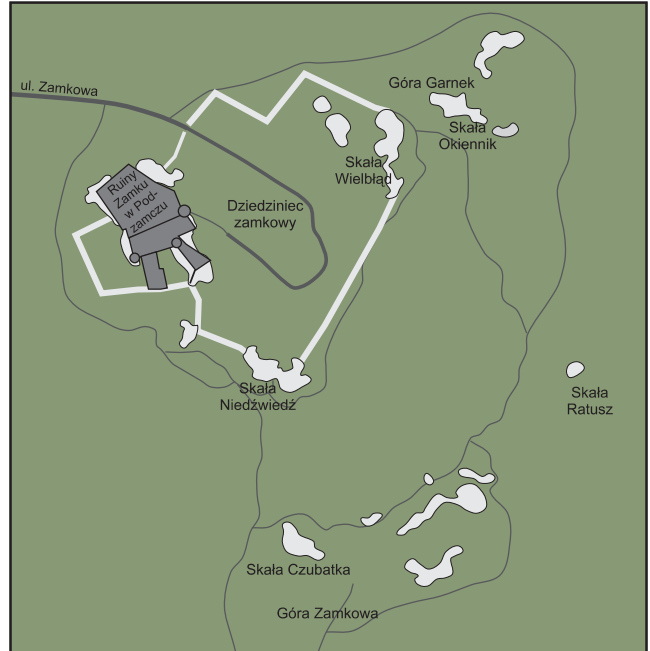






Zadania:

1. Zlokalizuj na planie skałki obserwowane na dziedzińcu zamkowym oraz w najbliższym sąsiedztwie zamku. W poniższych ramach naszkicuj schematycznie ich kontury. Zwróć uwagę na różnorodność kształtów skał. Podpisz rysunki.



2. Przyjrzyj się panoramie okolicy ukazującej typowe formy ukształtowania terenu. Opisz krótko obserwowany krajobraz. Z pomocą kompasu określ, w którym kierunku geograficznym zostało zrobione zdjęcie. Postępując się dostępnymi Ci mapami i planami, zidentyfikuj widoczne na poniższym zdjęciu elementy krajobrazu: Górę Birów, Górę Suchy Połec, skałkę w Zuzance, Górę Zborów, zabudowania wsi Skotnica.

.....

.....

.....

